



Olimpiada Wiedzy o Polsce i Świecie Współczesnym

LX edycja

Etap szkolny: 16.11.2018

Czas pracy: 60 minut

Instrukcja dla zawodnika

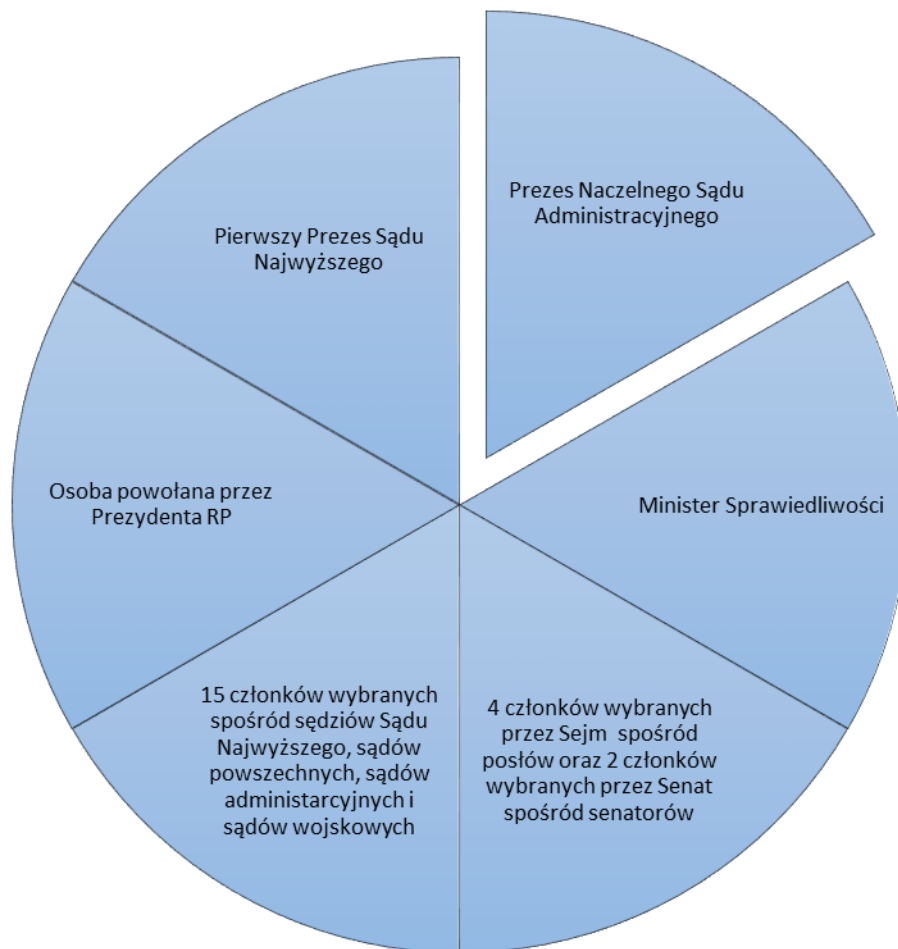
1. Sprawdź, czy test zawiera 18 stron (zadania 1 – 29). Ewentualny brak strony zgłoś członkowi Komisji Olimpiady Wiedzy o Polsce i Świecie Współczesnym (OWoPiŚW).
2. Pamiętaj, że rozwiązanie testu odbywa się w warunkach kontrolowanej samodzielności, korzystanie z jakichkolwiek pomocy jest niedozwolone, a Komisja OWoPiŚW może zdyskwalifikować zawodnika na skutek stwierdzenia niesamodzielności pracy.
3. Za rozwiązanie testu możesz uzyskać maksymalnie 50 punktów. Przy każdym zadaniu wpisano możliwą do uzyskania liczbę punktów. Za odpowiedź Komisja OWoPiŚW może przyznać wyłącznie pełne punkty.
4. Odpowiedzi wpisz w miejscu na to przeznaczonym przy każdym zadaniu. Pisz czytelnie. Używaj długopisu/pióra tylko z czarnym lub niebieskim tuszem/atramentem. Nie używaj korektora. **Wszelkie poprawki traktowane są jako odpowiedzi błędne.**
5. Pamiętaj, że nie będą oceniane poprawne informacje wykraczające poza zakres polecenia. Jeśli podane w odpowiedzi informacje (również dodatkowe, które nie wynikają z polecenia w zadaniu) świadczą o braku zrozumienia omawianego zagadnienia i zaprzeczają udzielonej prawidłowej odpowiedzi, odpowiedź taką Komisja OWoPiŚW oceni na zero punktów.

Zadanie 1.

.../3 pkt

Odpowiedz na poniższe pytania. Właściwe odpowiedzi wpisz w wykropkowane miejsca pod pytaniami.

1.1. Podaj nazwę polskiego organu, którego skład przedstawia poniższy schemat.



Źródło: na podstawie M. Mizerska-Wrotkowska, *Władza sądownicza w Polsce*, w: *Repetytorium maturalne WOS*, (red.) K.A. Wojtaszczyk, W. Jakubowski, Ł. Zamęcki, Warszawa 2012, s. 291.

Odp.

1.2. W którym roku ukonstytuował się pierwszy skład tego organu? Wymagane jest podanie roku pierwszego posiedzenia powyższego organu, który miał strzec niezawisłości sędziów i niezależności sądów.

Odp.

1.3. Kto jest obecnie Prezesem Naczelnego Sądu Administracyjnego? Właściwą literę wpisz w wykropkowane miejsce pod czterema propozycjami odpowiedzi.

- A. Leszek Mazur
- B. Marek Zirk-Sadowski
- C. Małgorzata Gersdorf
- D. Zbigniew Ziobro

Odp.....

Zadanie 2.

.../3 pkt

Wpisz w wykropkowane miejsca pod zdjęciami w tabeli imiona i nazwiska polityków widocznych na poniższych zdjęciach, a następnie połącz fragmenty not biograficznych z właściwymi politykami. Właściwe litery wpisz w wykropkowane miejsca pod tabelą. Nie wszystkie noty biograficzne należy dopasować.

Tabela. Droga Polski do Unii Europejskiej – słynni Polacy.


Zdjęcie oraz imię i nazwisko	Nota biograficzna
<div data-bbox="296 1032 737 1469"></div> <p data-bbox="376 1469 753 1505">Źródło: https://twitter.com/...</p> <p data-bbox="284 1547 798 1579">1.</p>	<p data-bbox="874 1037 1409 1294">A. Od 2007 do 2009 osoba ta pełniła funkcję sekretarza stanu w Urzędzie Komitetu Integracji Europejskiej i wiceprzewodniczącego Komitetu Europejskiego Rady Ministrów, od 2008 do 2009 r. była sekretarzem Komitetu Integracji Europejskiej.</p>



Źródło: <https://twitter.com/...>

2.
.....

B. W roku 2018 mija 10 rocznica jego śmierci. Minister Spraw Zagranicznych RP w latach 1997 – 2000.



Źródło: <http://www.iwm.at/fellowships/.../>

3.
.....


C. Powołany w 1991 r. jako Pełnomocnik Rządu do Spraw Integracji Europejskiej oraz Pomocy Zagranicznej. Poseł do Parlamentu Europejskiego VIII kadencji.



<https://wpolityce.pl/polityka/115342-...>

4.

D. Osoba ta w 1996 r. zostaje Sekretarzem Komitetu Integracji Europejskiej, a 8 lat później zostaje komisarzem Unii Europejskiej ds. polityki regionalnej.

 <p>https://www.rp.pl/Polityka/305289902-...</p> <p>5.</p>	<p>E. Osoba ta została w 1990 r. ambasadorem RP akredytowanym przy Wspólnotach Europejskich. W latach 2004–2009 poseł do Parlamentu Europejskiego.</p>
	<p>F. Minister Spraw Zagranicznych Polski, który złożył w Atenach w 1994 r. oficjalny wniosek o członkostwo Polski w Unii Europejskiej.</p>

Odp. 1..... 2. 3. 4. 5.

Zadanie 3.

.../3 pkt

Do każdej informacji o prezydencie RP dopisz jego imię i nazwisko.

Tabela. Prezydenci Polski.

Informacja o prezydencie RP	Imię i nazwisko prezydenta RP
1. Prezydent Rzeczypospolitej Polski, który zginął w zamachu z rąk Eligiusza Niewiadomskiego.
2. Ostatni Prezydent Polskiej Rzeczypospolitej Ludowej
3. Prezydent Polski w latach 1922–1926.
4. W latach 1976–1986 prezydent Polski na uchodźstwie.
5. Sprawował urząd prezydenta III RP przez 10 lat.

Zadanie 4.

.../3 pkt

Odpowiedz na poniższe pytania. W wykropkowane miejsca wpisz właściwe odpowiedzi.

4.1. Podaj imię i nazwisko obecnego przewodniczącego Parlamentu Europejskiego.

Odp.

4.2. Podaj rok objęcia przez tę osobę funkcji przewodniczącego Parlamentu Europejskiego.

Odp.

4.3. Podaj miesiąc i rok najbliższych wyborów do Parlamentu Europejskiego oraz nazwę co najmniej jednego państwa, w którym udział w wyborach jest obowiązkowy.

Odp. Najbliższe wybory do Parlamentu Europejskiego odbędą się w r.

Udział w wyborach jest obowiązkowy w

Zadanie 5.

.../2 pkt

W Europie istnieje wiele ruchów etnicznych lub etnoregionalnych, które wytworzyły się wokół języka i dla których język jest centralną wartością. Dopasuj właściwe państwo, w którym występuje dany ruch z nazwą ruchu. Nie wszystkie państwa trzeba dopasować. W wykropkowane miejsce pod tabelą wpisz odpowiednią literę.

Tabela. Ruchy etniczne lub etnoregionalne w Europie.

Nazwa ruchu	Nazwa państwa
1. Ruch bretoński	A. Włochy
2. Ruch łuzycycki	B. Hiszpania
3. Ruch sardyński	C. Francja
4. Ruch retoromański	D. Niemcy

	E. Szwajcaria

Źródło: R. Szul, *Język – naród – państwo. Język jako zjawisko polityczne*, Warszawa 2009, s. 125–126.

Odp. 1. 2. 3. 4.

Zadanie 6.

.../2 pkt

Rozstrzygnij, które zdanie związane z historią pierwszych premierów III RP jest prawdziwe, a które fałszywe. W wykropkowane miejsca w drugiej kolumnie poniższej tabeli wpisz „prawa” lub „fałsz”.

Tabela. Pierwsi premierzy III RP.

Zdanie	Prawda/Falsz
1. Polska została przyjęta do Rady Europy za rządów Jana Krzysztofa Bieleckiego.
2. Polska zawarła układ o stowarzyszeniu z Europejską Wspólnotą Gospodarczą za rządów Jana Olszewskiego.
3. W latach 90. „małą konstytucję” uchwalono za rządów Hanny Suchockiej
4. W latach 90. wycofały się z Polski ostatnie oddziały armii rosyjskiej za rządów Waldemara Pawlaka.

Zadanie 7.

.../2 pkt

Polska konstytucja z 1997 r. w sytuacjach szczególnych zagrożeń, jeżeli zwykłe środki konstytucyjne są niewystarczające (art. 228), przewiduje możliwość wprowadzenia trzech rodzajów stanów nadzwyczajnych. Wymień wszystkie te stany. W wykropkowane miejsca poniżej wpisz prawidłowe odpowiedzi.

Odp.

1. Stan
2. Stan
3. Stan

Zadanie 8.

..../2 pkt

Które z poniższych zdań są prawdziwe?

- A. Akt końcowy Konferencji Bezpieczeństwa i Współpracy w Europie został przyjęty w 1975 roku.
- B. Akt końcowy Konferencji Bezpieczeństwa i Współpracy w Europie został przyjęty w Helsinkach.
- C. Organizacja Bezpieczeństwa i Współpracy w Europie powstała w 1961 roku.
- D. Organizacja Współpracy Gospodarczej i Rozwoju skupia wyłącznie państwa europejskie.

Odp.

Zadanie 9.

.../ 2 pkt

Jedną z teorii budowy normy prawnej jest teoria trójelementowa, która wskazuje na elementy składowe normy prawnej. Z następujących terminów: *dyspozycja, hipoteza, sankcja, teza* wybierz części składowe normy prawnej i wpisz je we właściwej kolejności w wykropkowane miejsca poniżej.

Budowa normy prawnej.

1. – część normy, która określa adresata normy oraz warunki lub okoliczności, w których adresatowi normy określone działanie jest nakazane, zakazane lub dozwolone.
2. – część normy, która określa treść zachowania nakazanego, zakazanego lub dozwolonego albo treść decyzji, którą należy podjąć w związku z zaistnieniem pewnych wydarzeń czy okoliczności.
3. – część normy określająca konsekwencje niezastosowania się adresata do wzoru zachowania opisanego w dyspozycji.

Odp. 1.
2.
3.

Zadanie 10.

..../2 pkt

Poniżej wymienione są uprawnienia organów konstytucyjnych w Polsce. Określ, które z nich należą do Rady Ministrów, które do Prezydenta Rzeczypospolitej, a które do Sejmu.

Tabela. Uprawnienia organów konstytucyjnych RP

Lp.	Uprawnienie	Organ
1	Sprawowanie ogólnego kierownictwa w dziedzinie stosunków z innymi państwami i organizacjami międzynarodowymi
2	Zawieranie umów międzynarodowych wymagających ratyfikacji oraz zatwierdzanie i wypowiedanie innych umów międzynarodowych
3	Mianowanie i odwoływanie pełnomocnych przedstawicieli Rzeczypospolitej Polskiej w innych państwach i przy organizacjach międzynarodowych
4	Ratyfikowanie umów międzynarodowych
5	Decydowanie w imieniu Rzeczypospolitej Polskiej o zawarciu pokoju

Źródło: na podstawie Konstytucji RP.

Zadanie 11.

..../2 pkt

Odpowiedz na poniższe pytania

11.1. Które z poniższych zdań są prawdziwe w odniesieniu do polskiego systemu prawnego?

- A. Funkcji posła na Sejm nie można łączyć z funkcją senatora RP.
- B. Funkcji posła na Sejm nie można łączyć z funkcją członka Rady Ministrów.
- C. Wojewoda może być członkiem rady gminy.
- D. Marszałek województwa nie jest organem administracji rządowej.

Odp.

11.2. Które z poniższych zdań są nieprawdziwe w odniesieniu do polskiego systemu prawnego?

- A. Kadencja sędziego Trybunału Konstytucyjnego wynosi 6 lat.
- B. Prezydentem RP może zostać osoba, która ukończyła co najmniej 35 lat.
- C. Prezes Najwyższej Izby Kontroli może być równocześnie posłem na Sejm.
- D. Wójta wybiera zawsze rada gminy.

Odp.

Zadanie 12.

..../2 pkt

Połącz ze sobą wskazane niżej uprawnienia konstytucyjne z nazwami organów, do których one należą (nie wszystkie organy muszą być przyporządkowane).

- A. Sprawowanie nadzoru nad działalnością sądów powszechnych i wojskowych w zakresie orzekania
- B. Orzekanie w sprawie odpowiedzialności za naruszenie Konstytucji lub ustawy przez Prezesa Narodowego Banku Polskiego
- C. Powoływanie Pierwszego Prezesa Sądu Najwyższego na sześcioletnią kadencję
- D. Orzekanie w sprawach zgodności z Konstytucją celów lub działalności partii politycznych

- 1. Prezydent RP
- 2. Sąd Najwyższy
- 3. Trybunał Konstytucyjny
- 4. Trybunał Stanu
- 5. Najwyższa Izba Kontroli
- 6. Naczelny Sąd Administracyjny
- 7. Sejm

Odp. A.....
B.....
C.....
D.....

Zadanie 13.

..../2 pkt

Przyporządkuj wydarzenia polityczne datom rocznym, w których do nich doszło (nie wszystkie daty muszą zostać przyporządkowane).

A. Przyłączenie Niemieckiej Republiki Demokratycznej do Republiki Federalnej Niemiec

- B. Tzw. praska wiosna
- C. Przystąpienie Polski do NATO
- D. Uchwalenie konstytucji V Republiki Francuskiej
- E. Przystąpienie Malty do UE

- 1. 1958
- 2. 1990
- 3. 1999
- 4. 1968
- 5. 1991
- 6. 2004
- 7. 1945

Odp. A.....
B.....
C.....
D.....
E.....

Zadanie 14.

..../2 pkt

Przedstawiona na zdjęciu osoba jest liderką jednej z partii politycznych. Podaj nazwę państwa, w którym działa ta partia oraz zaznacz właściwą aktualną nazwę tej partii.



<https://www.politico.com/story/2017/04/21/.....>

14.1. Nazwa państwa:

14.2. Nazwa partii:

- A. Front Narodowy
- B. Zjednoczenie Narodowe
- C. Republikanie
- D. Unia na Rzecz Ruchu Ludowego

Odp.

Zadanie 15.

...../2 pkt

Zaznacz, którzy z niżej wymienionych polityków nigdy nie byli prezydentami Federacji Rosyjskiej?

- A. Borys Jelcyn
- B. Michaił Gorbaczow
- C. Leonid Breżniew
- D. Nikita Chruszczow

Odp.

Zadanie 16.

...../2 pkt

Zaznacz nazwy partii, których członkiem był lub jest przedstawiony na zdjęciu polityk.



[http://www.europarl.europa.eu/meps/pl/28372/\(...\)/home](http://www.europarl.europa.eu/meps/pl/28372/(...)/home)

- A. Prawo i Sprawiedliwość
- B. Samoobrona RP
- C. Porozumienie Centrum
- D. Zjednoczenie Chrześcijańsko-Narodowe

Odp.

Zadanie 17.

...../2 pkt

Które z poniższych zdań są nieprawdziwe?

- A. Rada Bezpieczeństwa ONZ składa się z 5 członków niestałych i 10 członków stałych.
- B. Niestałych członków Rady Bezpieczeństwa ONZ wybiera się na okres 2 lat.
- C. W skład Rady Europejskiej wchodzi wszyscy szefowie państw członkowskich UE.
- D. Kadencja Parlamentu Europejskiego wynosi 5 lat.

Odp.

Zadanie 18.

..../1 pkt

Zapoznaj się z poniższym tekstem, a następnie odpowiedz na pytanie.

„Klasycznie, historycznie ukształtowana zasada (...), której konkretne formy stosowane w praktyce politycznej inspirowane były w szczególności myślą polityczną Johna Locke’a i dziełem Charlesa de Montesquieu O duchu praw, wychodziła z założenia, iż wszelką władzę państwową cechuje skłonność do nadużyć, do stwarzania zagrożeń dla wolności jednostki.”

Źródło: T. Bichta, M. Podolak, M. Żmigrodzki, *Zasady konstytucyjno-prawne państw demokratycznych*, w: *Współczesne systemy polityczne*, (red.) M. Żmigrodzki, B. Dziemidok-Olszewska, Warszawa 2013, s. 30.

Której z zasad dotyczy powyższy tekst?

- A. zasady przedstawicielstwa
- B. zasady suwerenności narodu
- C. zasady podziału władzy
- D. zasady większości.

Odp.

Zadanie 19.

...../1 pkt

Które z poniższych zdań jest prawdziwe?

- A. Peter Pellegrini został premierem Słowacji w 2018 roku po rezygnacji Roberta Fico.
- B. Roberto Fico zastąpił w 2018 roku Petera Pellegrini’ego na stanowisku przewodniczącego Izby Deputowanych Republiki Włoskiej.
- C. Peter Pellegrini został ministrem spraw zagranicznych Republiki Włoskiej w rządzie Giuseppe Contego utworzonym w 2018 roku.

Odp.

Zadanie 20.

...../1 pkt

W którym roku wybory do Sejmu wygrała Akcja Wyborcza Solidarność?

- A. 2001
- B. 1997
- C. 1993
- D. 1991

Odp.

Zadanie 21.

...../1 pkt

Zapoznaj się z poniższym tekstem zawierającym fragment art. 444 polskiego kodeksu wyborczego, a następnie – zaznaczając właściwą odpowiedź – określ, jaka metoda przeliczania oddanych głosów na liczbę mandatów opisywana jest w tym tekście.

„W wyborach do rady w gminie liczącej powyżej 20 000 mieszkańców gminna komisja wyborcza, na podstawie zestawienia, o którym mowa w art. 442, dokonuje podziału mandatów w każdym okręgu wyborczym pomiędzy listy kandydatów w sposób następujący: 1) liczbę głosów ważnie oddanych na każdą z list w okręgu wyborczym dzieli się kolejno przez 1; 2; 3; 4 i dalsze kolejne liczby, aż do chwili, gdy z otrzymanych w ten sposób ilorazów da się uszeregować tyle kolejno największych liczb, ile wynosi liczba mandatów do rozdzielenia między listy; 2) każdej liście przyznaje się tyle mandatów, ile spośród ustalonego w powyższy sposób szeregu ilorazów przypada jej liczb kolejno największych.”

W powyższym tekście opisana jest:

- A. metoda Hare’a-Niemeyera
- B. metoda d’Hondta
- C. metoda Sainte-Lague
- D. metoda STV.

Odp.

Zadanie 22.

...../1 pkt

Który z parlamentów opisywany jest w poniższym tekście?

„Parlament (...) składa się z Izby Reprezentantów i Senatu, co jest wynikiem przede wszystkim federalnej struktury państwa (...). Izba Reprezentantów w założeniu jest reprezentacją całości i jednolitości ludu (...), Senat – reprezentacją części składowych federacji.”

Źródło: P. Sarnecki, *Ustroje konstytucyjne państw współczesnych*, Warszawa 2013, s. 89.

- A. Kongres Stanów Zjednoczonych Ameryki
- B. Zgromadzenie Federalne Konfederacji Szwajcarskiej
- C. Parlament Królestwa Hiszpanii
- D. Parlament Republiki Włoskiej

Odp.

Zadanie 23.

...../1 pkt

Zapoznaj się z poniższym tekstem, a następnie odpowiedz na pytanie.

„Bezpieczeństwo jest, poza potęgą, pojęciem fundamentalnym dla [tej] teorii stosunków międzynarodowych. Ponieważ zaś przedstawiciele tego paradygmatu są wciąż najliczniej reprezentowani w gronie teoretyków stosunków międzynarodowych, a podejście to szczyści się najdłuższą historią i największym dorobkiem, w [jego] ramach (...) odnaleźć można bogactwo refleksji na temat przemocy i bezpieczeństwa między grupami ludzi.”

Źródło: A. Wojciuk, *Bezpieczeństwo w teoriach stosunków międzynarodowych*, [w:] *Bezpieczeństwo międzynarodowe*, R. Kuźniar i in., Warszawa 2012, s. 416.

Do której teorii stosunków międzynarodowych odnosi się ten fragment?

- A. konstruktywizmu
- B. realizmu
- C. liberalizmu

Odp.

Zadanie 24.

.../1 pkt

Oto fragment uchwały Sejmu Rzeczypospolitej Polskiej z 20 lipca 2018 r. w sprawie ustanowienia roku 2019 Rokiem Unii Lubelskiej. W którym roku został podpisany ten akt realnej unii między Polską a Litwą?

„W obecności króla Polski, wielkiego księcia litewskiego Zygmunta Augusta na sejmie walnym w Lublinie został podpisany akt realnej unii polsko-litewskiej. Dwa państwa: Korona Królestwa Polskiego i Wielkie Księstwo Litewskie powołały tym aktem „jedno nierozdzielne i nieróżne ciało” - Rzeczpospolitą Obojga Narodów. Przetrwała ona ponad 200 lat, a unicestwiły ją dopiero połączone siły trzech zaborców”.

Źródło: [http://orka.sejm.gov.pl/opinie8.nsf/nazwa/2516_u/\\$file/2516_u.pdf](http://orka.sejm.gov.pl/opinie8.nsf/nazwa/2516_u/$file/2516_u.pdf), dostęp: 26.09.2018 r.

Odp.

Zadanie 25.

.../ 1 pkt

W wykropkowane miejsce pod tekstem wpisz nazwę doktryny politycznej, której dotyczy poniższy tekst.

Zdaniem H. Izdebskiego jest to pierwsza wielka doktryna nowożytna. Jej podstawy stworzone zostały w drugiej połowie XVII w. Twórcą tej doktryny był John Locke, którego zdaniem ludzie połączyli się w społeczeństwo, zawierając tym samym umowę społeczną, w celu wzajemnego zachowania swoich naturalnych, otrzymanych od natury z chwilą urodzin, praw do życia, wolności i mienia. Społeczeństwo, by móc realizować cel, w jakim powstało miało dla dobra publicznego powoływać rząd, tj. piastunów władzy i mogło rząd odwoływać, jeśli nie realizował celu społeczeństwa.

Źródło: H. Izdebski, *Doktryny polityczno-prawne. Fundamenty współczesnych państw*, Warszawa 2015, s. 50.

Odp.

Zadanie 26.

.../1 pkt

Jak ma na imię i nazwisko osoba, o której mowa w poniższym tekście? Wybierz prawidłową odpowiedź i w wykropkowane miejsce pod propozycjami odpowiedzi wpisz odpowiednią literę.

15 sierpnia 2019 r. przypada okrągła rocznica urodzin tej wybitnej działaczki niepodległościowej Wolnych Związków Zawodowych i współtwórczyni Niezależnego Samorządnego Związku Zawodowego „Solidarność”. Sejm w uznaniu jej zasług dla

utworzenia ruchu „Solidarności” oraz składając hołd jej niezłomnej postawie, ustanowił rok 2019 jej Rokiem.

Źródło: [http://orka.sejm.gov.pl/opinie8.nsf/nazwa/2517_u/\\$file/2517_u.pdf](http://orka.sejm.gov.pl/opinie8.nsf/nazwa/2517_u/$file/2517_u.pdf), dostęp: 25.09.2018 r.

- A. Joanna Duda-Gwiazda
- B. Henryka Krzywonos
- C. Anna Walentynowicz
- D. Alina Pienkowska

Odp.

Zadanie 27.

.../ 1 pkt

W wykropkowane miejsce wpisz nazwę pierwotnej grupy społecznej, o której mowa w poniższym tekście.

Grupa ta spełnia ważne funkcje społeczne: materialno-ekonomiczną (zaspokajanie potrzeb materialnych jej członków), opiekuńczą (opieka nad członkami), prokreacyjną (rozmnażanie), seksualną, socjalizacyjną (kształtowanie osobowości dzieci), kulturalną (zaspokajanie potrzeb kulturalnych), rekreacyjno-towarzyską (utrzymanie kontaktów towarzyskich między krewnymi), emocjonalno-ekspresyjną (zaspokajanie potrzeb emocjonalnych jej członków).

Źródło: J. Nadolska, *Człowiek jako istota społeczna*, w: *Repetitorium maturalne WOS*, (red.) K.A. Wojtaszczyk, W. Jakubowski, Ł. Zamęcki, Warszawa 2012, Warszawa 2012, s. 21.

Odp.

Zadanie 28.

.../1 pkt

W wykropkowane miejsce pod tekstem wpisz brakujący termin – nazwę kryteriów, która pochodzi od nazwy jednej ze stolic europejskich.

Kraje ubiegające się o przyjęcie do Unii Europejskiej muszą spełniać tzw. kryteria, a więc: 1) być krajem europejskim, 2) mieć ustrój demokratyczny, 3) mieć gospodarkę rynkową posiadającą zdolność do konkurencji na rynku europejskim; 4) przyjąć dorobek prawny Unii Europejskiej i zadeklarować podporządkowanie się orzeczeniom Trybunału Sprawiedliwości Unii Europejskiej.

Odp.

Zadanie 29.

..../1 pkt

Jakiego rodzaju umowy międzynarodowe wymienione są w przytoczonym niżej fragmencie art. 89 Konstytucji RP?

„(...) jeżeli umowa dotyczy:

- 1) pokoju, sojuszy, układów politycznych lub układów wojskowych,*
- 2) wolności, praw lub obowiązków obywatelskich określonych w Konstytucji,*
- 3) członkostwa Rzeczypospolitej Polskiej w organizacji międzynarodowej,*
- 4) znacznego obciążenia państwa pod względem finansowym,*
- 5) spraw uregulowanych w ustawie lub w których Konstytucja wymaga ustawy.”*

- A. Umowy wymagające ratyfikacji za uprzednią zgodą wyrażoną w ustawie
- B. Umowy wymagające ratyfikacji bez uprzedniej zgody wyrażonej w ustawie
- C. Umowy niewymagające ratyfikacji

Odp.